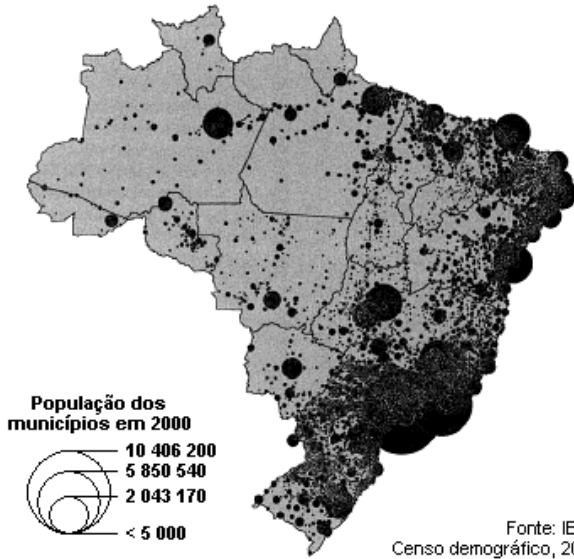


01. (PUC-SP/2009) Observe o mapa:

Mapa de população dos municípios brasileiros - 2000



Considerando as condições gerais do espaço brasileiro, é correto afirmar que:

- A) O Sul do Rio Grande Sul apresenta as melhores condições para a aglomeração populacional em razão das infraestruturas territoriais e da industrialização.
- B) A linha de povoamento mais intenso ao longo da faixa atlântica deve-se à grande abundância de recursos naturais nessa área.
- C) Na Amazônia, a população que penetrou para o interior do território seguiu nitidamente a linha do rio principal do sistema hidrográfico.
- D) A concentração populacional no sul e no sudeste se dá em razão da disponibilidade de terras muito férteis.
- E) A dispersão populacional no interior do Brasil é resultante da indisponibilidade de recursos hídricos para povoar um território dessa dimensão.

02. (PUC-MG/2009) As charges a seguir ilustram um dos problemas que tem ocupado os noticiários de todo o mundo. A crise mundial de alimentos trouxe para o debate um conjunto de temas polêmicos que, em diversas situações, têm colocado em posições opostas os interesses das nações desenvolvidas ou em desenvolvimento.

Dentre os fatores que têm sido apontados como causas do problema, assinala aquele que afeta mais diretamente os interesses estratégicos do Brasil.



- A) A produção do etanol e do biodiesel, que estaria provocando a substituição das lavouras de alimentos pela cultura da cana-de-açúcar e de oleaginosas como a mamona.
- B) A produção do etanol à base de milho que, além de apresentar alto custo de produção, trouxe como consequência a elevação dos preços mundiais do cereal.
- C) A especulação internacional no mercado futuro de 'commodities' (matérias-primas), que produziu uma escalada mundial de preços dos produtos básicos de alimentação.
- D) A explosão populacional, que trouxe como consequência uma defasagem extremamente grave entre o crescimento da demanda por alimentos e a elevação da produção.

03. (PUC-MG/2009) A figura ilustra um dos graves problemas na estrutura fundiária da Amazônia Brasileira, responsável pela ocorrência de inúmeros conflitos na região, decorrente do processo de expropriação das populações nativas de suas terras. Diante da gravidade da situação, o governo brasileiro, por meio do INCRA, do Ministério da Defesa e do Ministério da Justiça, pretende realizar um amplo cadastramento das propriedades rurais da região.



A questão abordada refere-se à:

- A) ocupação de terras por grandes empresas estatais como a Petrobras, em virtude da necessidade de exploração dos recursos naturais da área.
- B) expansão dos garimpos ilegais, praticados por migrantes vindos das regiões mais pobres do País.
- C) desapropriação de terras para realização de reforma agrária, assentando trabalhadores rurais vindos do nordeste brasileiro.
- D) aquisição ilimitada de terras por estrangeiros, que pode levar a um arriscado processo de internacionalização da Amazônia Brasileira.

04. (UEL/2009) Analise o gráfico a seguir.

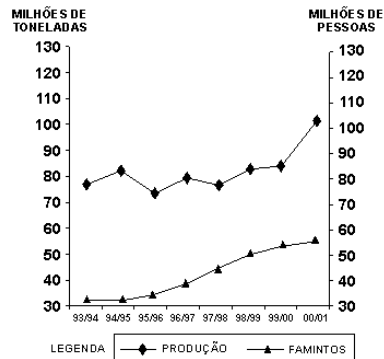


Gráfico 2: Crescimento da safra de grãos e a população de famintos - 1993 - 2001 (CARNEIRO, P. A. S.; PEREIRA, M. F. V. Território da desigualdade: pobreza, fome e concentração fundiária no Brasil contemporâneo. Geografia, Rio Claro, v. 30, n. 2, p. 256-269, mai./ago. 2005)

Com base no gráfico e nos conhecimentos sobre o tema, considere as afirmativas a seguir.

- I. No Brasil, no contexto da modernização da agricultura, a evolução tecnológica proporcionou ganhos de produtividade que, por sua vez, influenciaram o crescimento da safra de grãos a ponto de, pela primeira vez na safra 2000/2001, atingir a casa dos 100 milhões de toneladas.
- II. Os grandes proprietários rurais dominam a produção agrícola de grãos, fato que permite identificar a apropriação diferenciada dos recursos no território brasileiro, processo que tem ligação com a contínua concentração da propriedade no meio rural e, em consequência, o aumento da pobreza e da fome.
- III. Apesar do crescimento da produção proporcionado pela modernização da agricultura brasileira, permanece o problema estrutural da produção insuficiente de grãos para atender a demanda do mercado interno, que a acompanha a história brasileira desde o período colonial.
- IV. O aumento da produção de grãos, na última década, foi dinamizado

pela expansão do cultivo da soja, que apresenta como um de seus objetivos o mercado externo, influenciando, assim, a distribuição e o uso das áreas agricultáveis em favor das culturas de exportação.

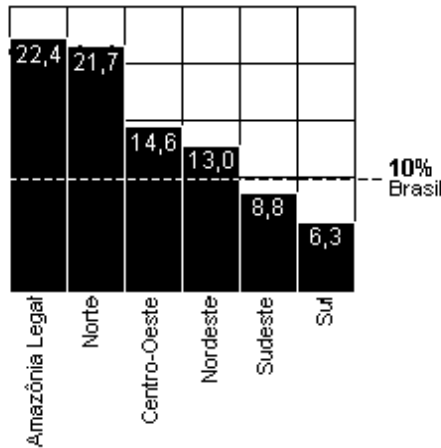
Assinale a alternativa CORRETA.

- A) Somente as afirmativas I e III são corretas.
- B) Somente as afirmativas III e IV são corretas.
- C) Somente as afirmativas I e II são corretas.
- D) Somente as afirmativas I, II e IV são corretas.
- E) Somente as afirmativas II, III e IV são corretas.

05. (UERJ/2009)

Crescimento do agronegócio

Variação acumulada nos três primeiros anos do governo Lula (2002-2005), em %



Folha de São Paulo, 01/06/2008

PIB DA AMAZÔNIA LEGAL CRESCE MAIS QUE O DO PAÍS

O agronegócio avança e é apontado por ambientalistas como a principal causa da devastação na Amazônia.

Setores do governo e representantes de produtores rurais descartam a hipótese de recuo do agronegócio na Amazônia Legal e afirmam que a tendência será aumentar a produção em áreas de florestas já abertas.

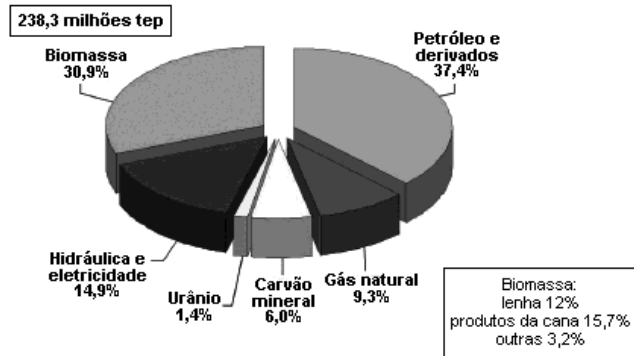
Adaptado de "Zero Hora", 16/06/2008.

Diferentes critérios e objetivos podem orientar a divisão do espaço geográfico em regiões. Na Amazônia, uma variedade de parâmetros tem sido empregada para essa divisão, o que pode gerar dúvidas quanto ao recorte territorial de suas regionalizações.

Diferencie o recorte territorial da Região Norte do recorte da Amazônia Legal. Em seguida, aponte os dois principais produtos do agronegócio cuja expansão da produção representa um sério risco para o desmatamento na Amazônia.

06. (UEL/2009) Analise o gráfico a seguir e responda à questão.

OFERTA INTERNA DE ENERGIA - BRASIL 2007 (%)



Uma discussão frequente na mídia atual diz respeito às alternativas de geração de energia para o abastecimento da população e dos processos produtivos.

Com base no gráfico e nos conhecimentos sobre o tema, considere as

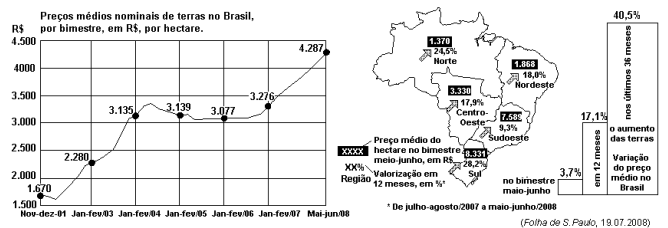
afirmativas a seguir.

- I. As fontes não-renováveis representam, aproximadamente, 54% da matriz energética brasileira.
- II. Gás natural e carvão mineral são, assim como o petróleo, fontes renováveis, com forte participação na matriz energética nacional.
- III. Em comparação às termoeletricas e usinas nucleares, as hidrelétricas são menos comprometedoras para o meio ambiente, entretanto a construção de barragens provoca graves impactos socioambientais.
- IV. As condições brasileiras de clima e relevo originam um grande potencial hidráulico que, no entanto, ainda é pouco aproveitado.

Assinale a alternativa CORRETA.

- A) Somente as afirmativas I e II são corretas.
- B) Somente as afirmativas II e IV são corretas.
- C) Somente as afirmativas III e IV são corretas.
- D) Somente as afirmativas I, II e III são corretas.
- E) Somente as afirmativas II, III e IV são corretas.

07. (FGV/2009) Observe as imagens para responder à questão.

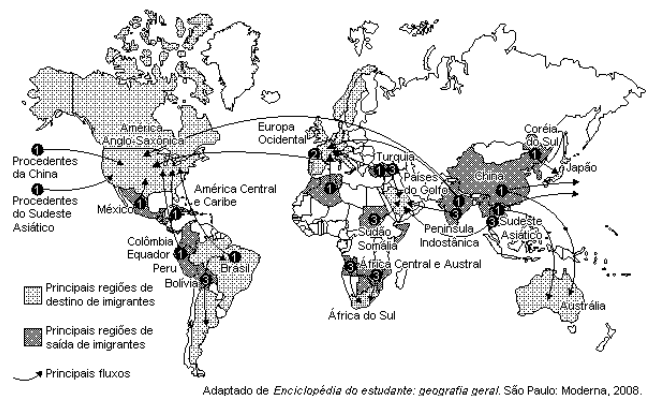


A análise das figuras e os conhecimentos sobre a economia brasileira permitem afirmar que a valorização da terra ocorreu devido a fatores como:

- A) a alta das commodities e o aumento do grau de investimentos nacionais e estrangeiros no setor agropecuário.
- B) o interesse de grupos estrangeiros e as novas leis ambientais que possibilitam a ocupação de áreas florestais.
- C) a expansão das áreas canavieiras e de cultivos familiares de oleaginosas para a produção de biodiesel.
- D) a reordenação fundiária e a expansão de cultivos destinados à produção de matérias-primas industriais.
- E) a crescente ampliação da infraestrutura de transportes, sobretudo hidrovias, e a expansão da pecuária.

08. (UERJ/2009)

Principais fluxos migratórios no final do século XX e início do século XXI



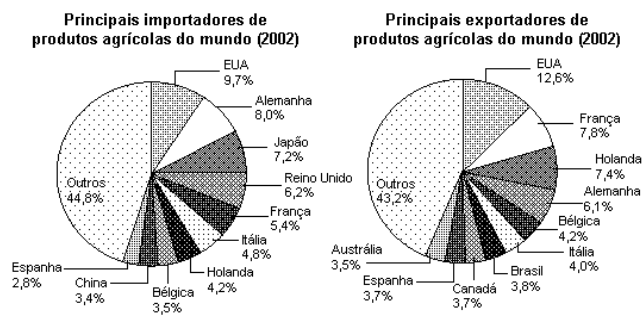
Adaptado de Enciclopédia do estudante: geografia geral. São Paulo: Moderna, 2008.

Cerca de 200 milhões de pessoas (3% da população mundial) não vivem em seus países de origem.

Do ponto de vista do nível de desenvolvimento do país de origem e do país de destino, distinguem-se na atualidade três tipos de fluxos migratórios, identificados no mapa com os números 1, 2 e 3.

Identifique dois desses movimentos populacionais e aponte a característica principal do perfil do trabalhador migrante que participa de cada um deles.

09. (UERJ/2009)



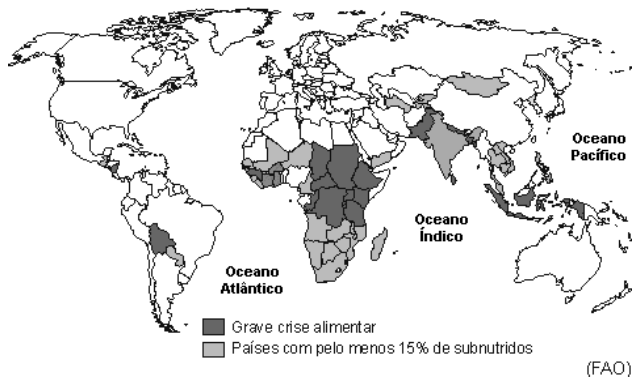
ALMEIA, Lúcia Marina Alves de e RIGOLIN, Tércio Barbosa. *Fronteiras da globalização – Geografia geral e do Brasil*. São Paulo: Ática, 2004.

Analisando os gráficos, verifica-se que, além dos EUA, alguns países europeus são simultaneamente grandes exportadores e grandes importadores de produtos agrícolas.

Apresente, em relação aos países europeus, duas justificativas para cada uma dessas condições comerciais.

10. (FGV/2009) Considere o mapa a seguir:

ACRISE ALIMENTAR EM 2008



A leitura do mapa e os conhecimentos sobre as condições socioeconômicas do mundo atual permitem afirmar que:

- A) a redução dos estoques disponíveis de terras aráveis, em várias partes do mundo, tem sido responsabilizada pela atual crise alimentar.
- B) a sensível diminuição da pobreza crônica, na Ásia e na África, aumentou a demanda por alimentos e, por isso, a escassez.
- C) a existência de minifúndios improdutivos aliada à proliferação de conflitos nos países produtores de alimentos são as principais causas da fome aguda no mundo.
- D) a forte expansão das áreas de cultivos destinados à produção de biocombustíveis, sobretudo na África, é apontada como causa da crise de fome.
- E) o aumento da demanda de alimentos em alguns países e o encarecimento dos transportes pelo elevado preço do petróleo estão entre os fatores responsáveis pela fome.

11. (UEL/2009)



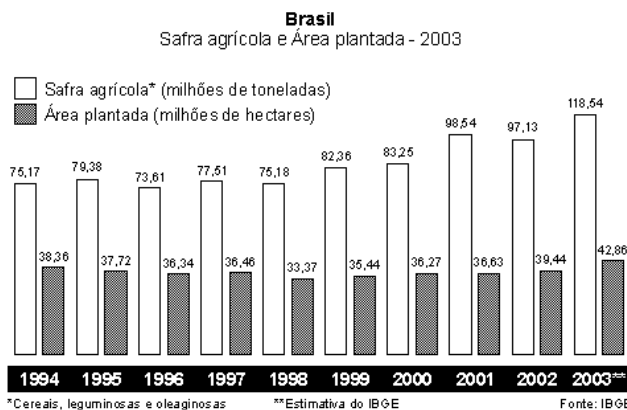
Figura 7

(Disponível em: <http://www.miguelportas.net/blog/?p=117>ratos. Acesso em: 4 jun. 2008.

Sobre sementes transgênicas no mundo contemporâneo, é correto afirmar

- A) Têm constituído a base da agricultura familiar em expansão, razão pela qual o atual governo do Paraná vem defendendo seu uso.
- B) A atuação de empresas que fabricam sementes transgênicas diminui a possibilidade de criação de monopólios no setor de alimentos.
- C) O uso de sementes transgênicas se expande, mesmo não havendo consenso científico sobre os seus efeitos no corpo humano pelo seu consumo em longo prazo.
- D) O uso de sementes transgênicas tem resultado na diminuição dos subsídios agrícolas dos países centrais a seus produtores rurais locais.
- E) A utilização de transgênicos foi consensual entre movimentos sociais e organismos internacionais como tentativa de solucionar os problemas da crise alimentar.

12. (G1 - cp2 2008) Observe o gráfico e leia o texto que o segue.



TEXTO

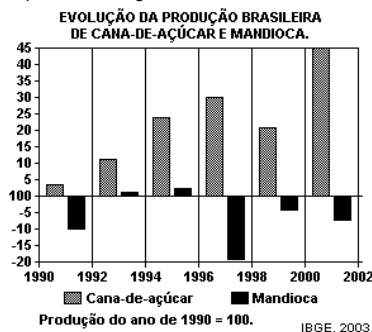
"A galinha dos ovos de ouro"

É desta forma que se pode conceber atualmente a agropecuária brasileira no contexto de sua economia. É do campo que sai o saldo comercial favorável do Brasil. A agricultura foi o setor que mais se modernizou nos últimos anos, tornando o agronegócio brasileiro um dos mais competitivos do mundo. No ano de 2003, pela primeira vez na história, o Brasil ultrapassou a produção de soja norte-americana, além de já ser o segundo maior produtor de carnes do mundo.

Considerando as causas que explicam a competitividade do agronegócio brasileiro e o que o gráfico acima retrata, marque a alternativa correta.

- A) Mesmo com a manutenção de técnicas agrícolas rudimentares nas empresas rurais, o Brasil vem aumentando significativamente a sua safra agrícola.
- B) O aumento da safra agrícola brasileira é explicado pelo aumento proporcional da área plantada.
- C) Um dos fatores explicativos para o aumento da safra agrícola brasileira é a grande concentração de terras nas mãos de alguns poucos proprietários.
- D) O aumento da safra agrícola brasileira foi conseguido pelo processo de modernização do campo (insumos agrícolas, máquinas, biotecnologia) percebido em áreas selecionadas do país, mesmo não tendo aumentado significativamente a área plantada no Brasil.

13. (UNESP/2007) Observe o gráfico.



Utilizando seus conhecimentos geográficos, é possível inferir que, no Brasil:

- A não há políticas agrícolas que incentivem a produção para o mercado externo.
- B) as políticas agrícolas adotadas incentivam a produção voltada tanto para o processo industrial quanto para o mercado externo, em detrimento dos cultivos alimentares básicos.
- C) os produtos destinados à alimentação básica da população são baratos e não precisam de incentivos.
- D) as políticas agrícolas adotadas incentivam igualmente a produção de cultivos alimentares básicos e daqueles voltados para o mercado externo.
- E) as políticas adotadas incentivam a produção de cultivos alimentares básicos, em detrimento dos cultivos voltados para o mercado externo.

14. (UNESP/2007) Observe a tabela, que representa as formas de relação de trabalho no meio rural brasileiro.

BRASIL: MÃO-DE-OBRA RURAL EM 2004.

Condição do trabalhador	Total de trabalhadores	Porcentagem do total
Posseiro	654.615	4,2
Parceiro	366.995	2,3
Pequeno proprietário	2.437.001	15,6
Arrendatário	101.409	0,8
Assalariado permanente	975.150	6,3
Assalariado temporário	6.844.849	44,0
Não-remunerado	4.190.152	26,8

INCRA, 2005.

Assinale a alternativa que exprime a principal causa da relação de trabalho predominante.

- A) A expansão da pecuária extensiva é a grande responsável pelo predomínio de pequenos proprietários, parceiros e assalariados permanentes.
- B) As heranças coloniais brasileiras explicam o predomínio de pequenos proprietários e trabalhadores não-remunerados.
- C) A sazonalidade das safras agrícolas é a grande responsável pelo predomínio de assalariados temporários.
- D) O avanço do agronegócio contribui para o predomínio dos trabalhadores não-remunerados.
- E) Os conflitos pela posse da terra são responsáveis pelo predomínio de assalariados temporários.

Gabarito:

Resposta da questão 1:

[C]

Resposta da questão 2:

[A]

Resposta da questão 3:

[D]

Resposta da questão 4:

[D]

Resposta da questão 5:

A Região Norte é uma área geoeconômica denominada pelo IBGE, composta pelos estados do Pará, Amazonas, Roraima, Rondônia, Acre, Amapá e Tocantins. A Amazônia Legal é um domínio natural caracterizado pela presença da floresta amazônica ocupando toda a região Norte, mais oeste do Maranhão e norte do Mato Grosso. Os dois produtos são a soja e a criação pecuária bovina.

Resposta da questão 6:

[E]

Resposta da questão 7:

[A]

Resposta da questão 8:

Populações pobres da Ásia, América Latina e Norte da África em direção aos países ricos como Estados Unidos e europeus ocidentais; 2 - migrações de cérebros, da Europa para os Estados Unidos; 3 - Movimentos de refugiados de áreas de conflito na África, Ásia e América Latina.

Resposta da questão 9:

Os países europeus, principalmente da Europa Ocidental, fazem parte de um bloco de países com alto poder de renda e muito inserido na globalização econômica, participando com grandes fatias do comércio internacional. Nesse caso constituem-se em grandes exportadores de produtos temperados como trigo e compradores de produtos tropicais como café.

Resposta da questão 10:

[E]

Resposta da questão 11:

[C]

Resposta da questão 12:

[D]

Resposta da questão 13:

[B]

Resposta da questão 14:

[C]